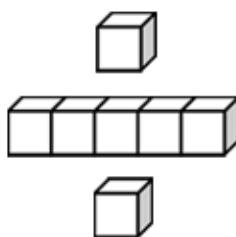


基本學習內容：NC-1-1-3

100 以內兩量的多少及兩數的大小

班_ㄅ級_ㄐ： _____

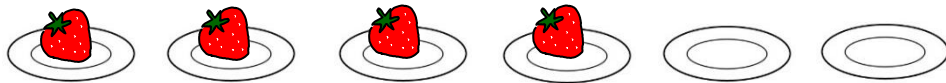

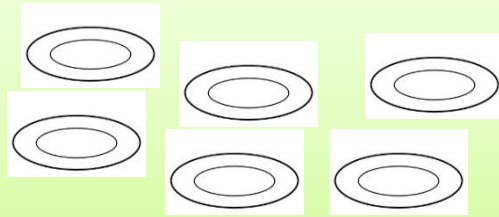

姓_ㄒ名_ㄇ： _____



基本學習內容：NC-1-1-3

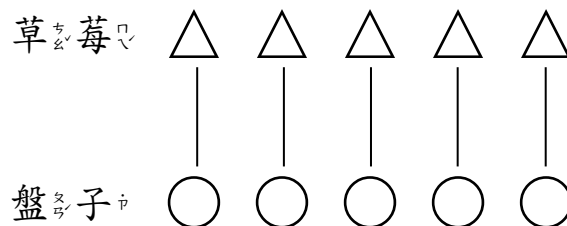
◎比較兩量的多或少

(1) 草莓和盤子，誰比誰多？




1 個盤子放 1 個草莓，盤子比草莓多。

用 1 個△代表 1 個草莓，1 個○代表 1 個盤子，再把 1 個△對 1 個○畫線連起來，盤子比草莓多。



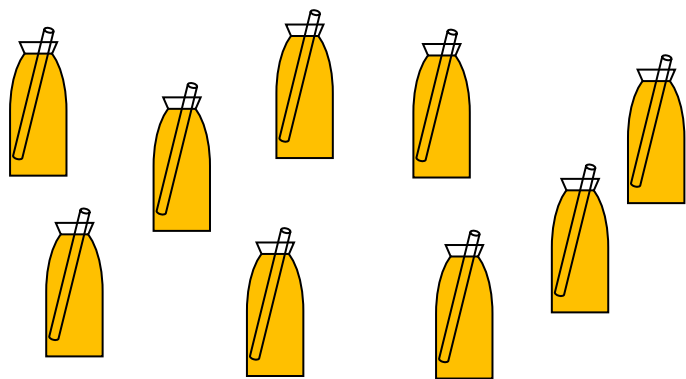

答：盤子比草莓多。

盤子比草莓多，也可以說盤子比較多。





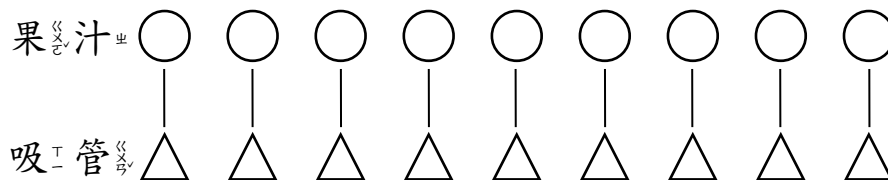
(2) 果汁和吸管，誰比誰多？



1 瓶果汁放 1 根
吸管，果汁和吸
管一樣多。

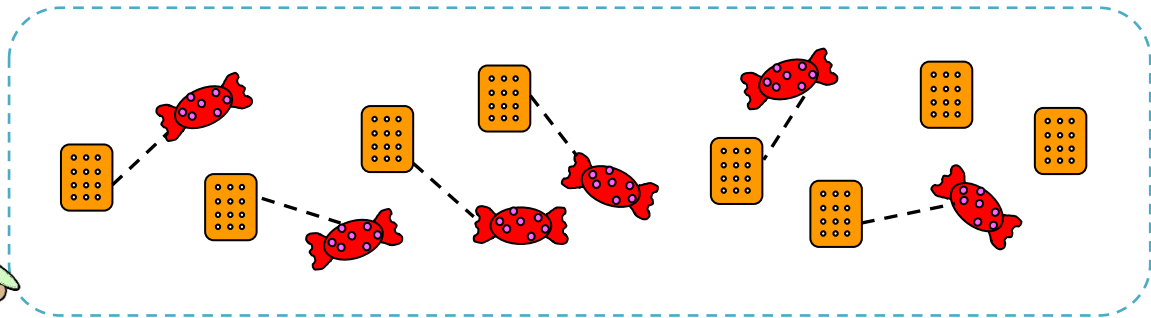



用 1 個○代表 1 瓶果汁，1 個△代表 1 根吸管，再把
1 個○對 1 個△畫線連起來，果汁和吸管一樣多。



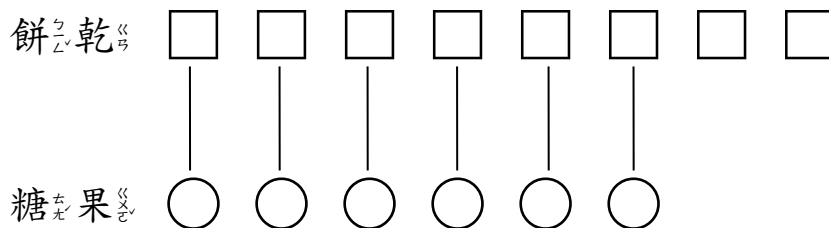
答：果汁和吸管一樣多。

(3) 餅乾和糖果，誰比誰少？




把 1 片餅乾對 1 顆糖果畫線連起來，糖果比餅乾少。

用 1 個□代表 1 片餅乾，1 個○代表 1 顆糖果，再把 1 個□對 1 個○畫線連起來，糖果比餅乾少。



答：糖果比餅乾少。



糖果比餅乾少，也可以說糖果比較少。



(4) 誰吃的草莓比誰多？

我吃了 9 顆。



小莉



大元

我吃了 6 顆。



先畫 9 個○代表小莉吃的草莓，再畫 6 個○代表大元吃的草莓，9 個○比 6 個○多，也就 是 9 顆比 6 顆多，所以小莉吃的草莓比大元多。


小莉



大元



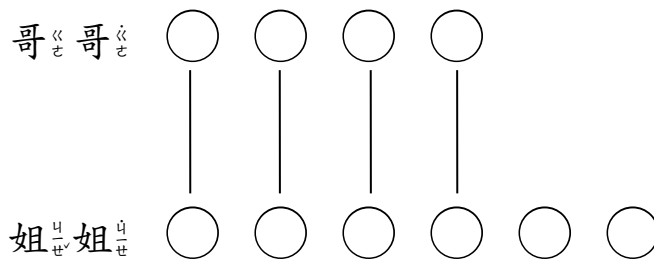
答：小莉吃的草莓比大元多。




9 顆比 6 顆多，也可以說 9 比 6 大。

(5) 哥哥吃了 4 顆水餃，姐姐吃了 6 顆水餃，誰吃的水餃比較少？

先畫 4 個○代表哥哥吃的水餃，再畫 6 個○代表姐姐吃的水餃，4 個○比 6 個○少，也就是 4 顆比 6 顆少，所以哥哥吃的水餃比姐姐少。



答：哥哥吃的水餃比姐姐少。



4 顆比 6 顆少，也可以說 4 比 6 小。



小手試身手

先將每題上面的圖和下面的圖一個對一個連起來，再回答問題：

1

① 猴子和香蕉，誰比較多？圈圈看。

(
、
)
比較多

2

草莓和柿子，誰比誰多？在□中打✓。

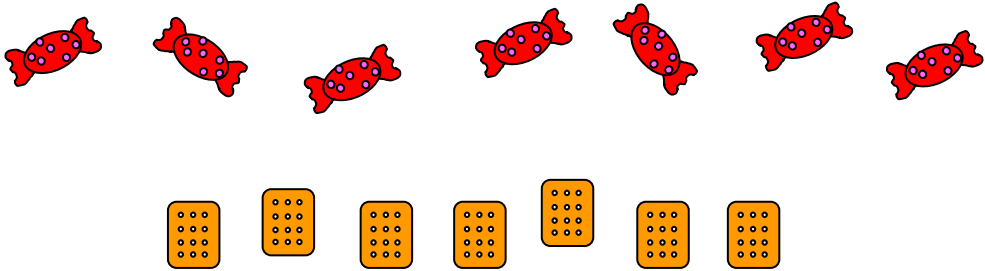
☐ 草莓比柿子多

☐ 柿子比草莓多

☐ 草莓和柿子一樣多

基本學習內容：NC-1-1-3

3



糖果和餅乾，誰比誰多？在□中打✓。

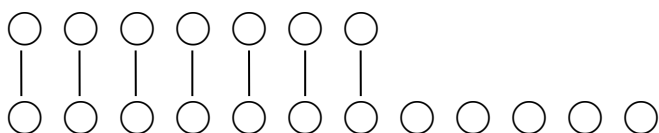
- ☐ 糖果比餅乾多
- ☐ 餅乾比糖果多
- ☐ 糖果和餅乾一樣多



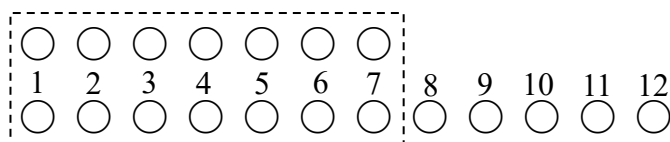
◎ 比較兩數的大小

(1) 7 和 12，誰比誰大？

先畫 7 個 ○ 和 12 個 ○，再畫線連起來。
12 個 ○ 比 7 個 ○ 多，所以 12 比 7 大。



先唸到 7 的數字，後唸到 12 的數字，所以 12 比 7 大。

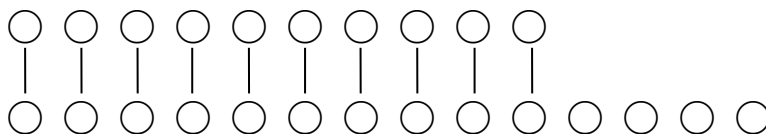


答：12 比 7 大。

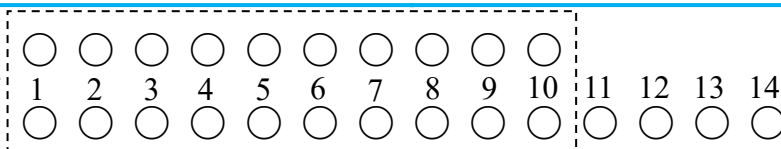
(2) 10 和 14，誰比誰小？



先畫 10 個 ○ 和 14 個 ○，再比比看，10 個 ○ 比 14 個 ○ 少，所以 10 比 14 小。



1、2、3、4、5、6、7、8、9、10、11、12、13、14，先唸到 10，後唸到 14，所以 10 比 14 小。




答：10 比 14 小。

(3) 28 和 23，誰比誰大？

1,2,3,4,5.....18,19,20,21,22,23,24,25,26,27,28，

先唸到 23，後唸到 28，所以 28 比 23 大。



先比較十位數字，

如果一樣大，再比較個位數字。

把 28 和 23 記在定位板上比一比。十位數字都是 2，個位數字 8 比 3 大，所以 28 比 23 大。

十位	個位
2	8
2	3



答：28 比 23 大。



(4) 36 和 42，誰比誰大？




1,2,3,4,5.....28,29,30,31,32,33,34,35,36,37,38,39,40,41,42，

先唸到 36，後唸到 42，所以 42 比 36 大。

十位數字小的二位數，

一定比十位數字大的二位數先唸。



把 36 和 42 記在定位板上比比看。十位數字

大的二位數，一定比十位數字小的二位數

大，所以 42 比 36 大。



十位	個位
3	6
4	2

答：42 比 36 大。

(5) 把 83 和 85 記在定位板上，誰比誰小？

十位	個位
8	3
8	5

十位數字都是 8，再比個位數字，3 比 5 小，所以 83 比 85 小。



答：83 比 85 小。

(6) 把 72 和 68 記在定位板上，誰比誰大？

十位	個位
7	2
6	8

先比十位數字，7 比 6 大，所以 72 比 68 大。



答：72 比 68 大。



小試身手

一、比比看，把比較大的數圈起來：

① 80 18	② 57 75	③ 49 46
------------	------------	------------

二、比較大的數在 ☐ 中打 ☒，比較小的數畫 ☐：

① 9 12 <input type="checkbox"/> <input type="checkbox"/>	② 40 60 <input type="checkbox"/> <input type="checkbox"/>	③ 51 34 <input type="checkbox"/> <input type="checkbox"/>
--	---	---



教育部國民及學前教育署 編

國民小學

學生學習扶助教材

1 年級數學

