

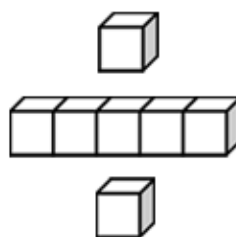


基本學習內容：NC-1-1-4

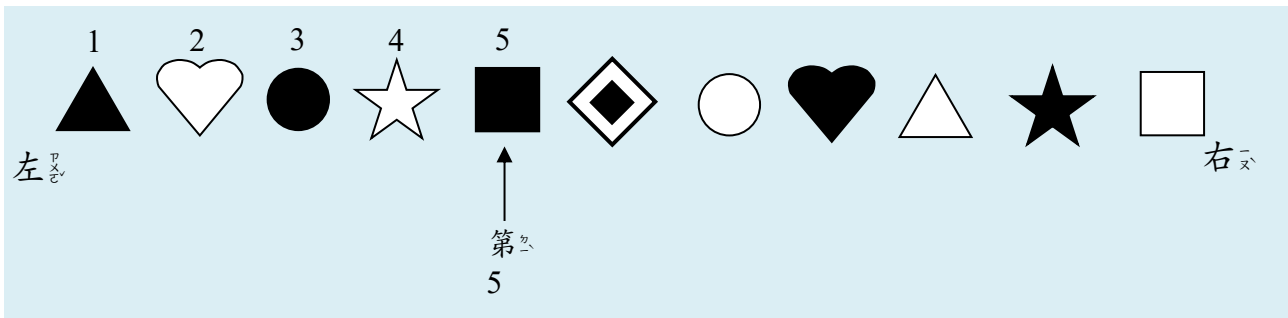
100 以內序數的命名，並用序數 描述位置及先後關係


班_ㄅ級_ㄐ：_____

姓_ㄒ名_ㄇ：_____





基本學習內容：NC-1-1-4

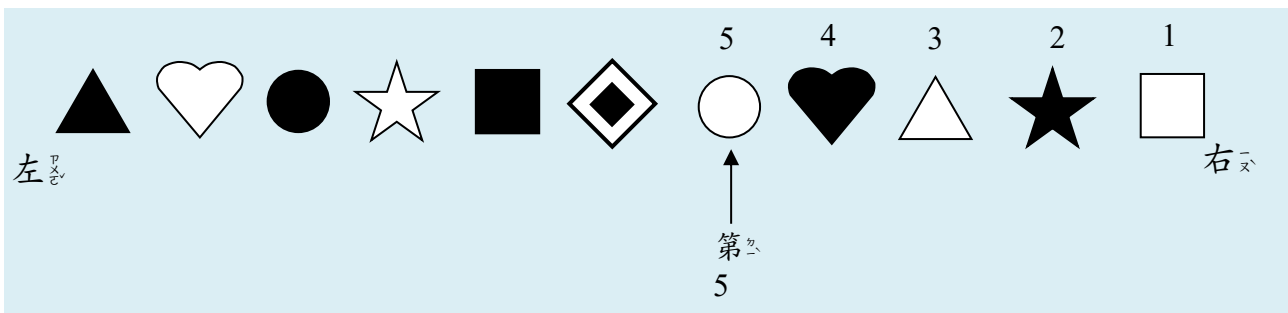



(1) 從左往右數，數到多少時，可以數到 ？



從左往右數到 5 時，可以數到 .



從左往右數到 5 時，可以數到 ，
所以  是第 5 個。



(2) 從右往左數，數到多少時，可以數到 ？



從右往左數到 5 時，可以數到 .



從右往左數到 5 時，可以數到 ，
所以  是第 5 個。







(3) 從左往右數，第 8 個是什麼圖形？




從左往右數到 8 時，可以數到 ，所以第 8 個圖形是 。

(4) 從右往左數，第 10 個是什麼圖形？





從右往左數到 10 時，可以數到 ，所以第 10 個圖形是 。



(5) 從左往右數， 是第幾個？



從左往右數， 是第 9 個。

(6) 從右往左數， 是第幾個？



從右往左數， 是第 6 個。

基本學習內容：NC-1-1-4





小手試身手

填填看，圈圈看：


(1)



①從左往右數，數到（ ）時，可以數到 .


②從右往左數，數到 9 時，可以數到 、.

(2)



①從左往右數，糖果是第（ ）個。

②從右往左數，第 7 個是（ 、 ）。



排隊上公車，馬兒排第4個，馬兒的前1個是猴子，猴子是第3個；馬兒的後1個是小豬，小豬是第5個。



(1)從前面開始數，青蛙是第10個。

青蛙的前1個是誰？是第幾個？

青蛙的後1個是誰？是第幾個？



從前面開始數，青蛙是第10個。

青蛙的前1個是蝸牛，蝸牛是第9個；

青蛙的後1個是綿羊，綿羊是第11個。

(2)從前面開始數，鴨子是第6個。

從鴨子往後數2個是誰？是第幾個？



從前面開始數，鴨子是第6個。

從鴨子往後數2個是兔子，兔子是第8個。

(3) 從前面開始數，小豬是第 5 個。

從小豬往前數 3 個是誰？是第幾個？

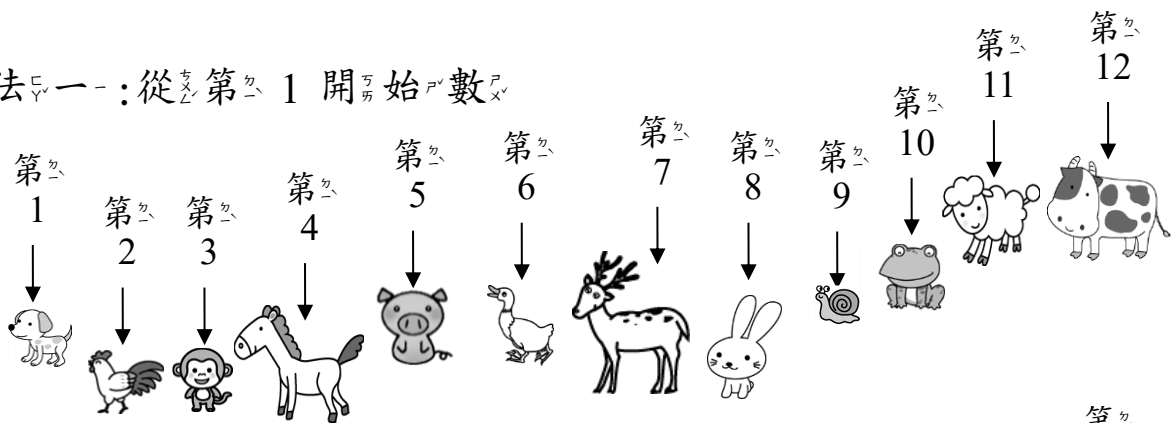


從前面開始數，小豬是第 5 個。

從小豬往前數 3 個是公雞，公雞是第 2 個。

(4) 乳牛排在最後面，從前面開始數，牠是第幾個？

方法一：從第 1 開始數



方法二：從第 10 開始數



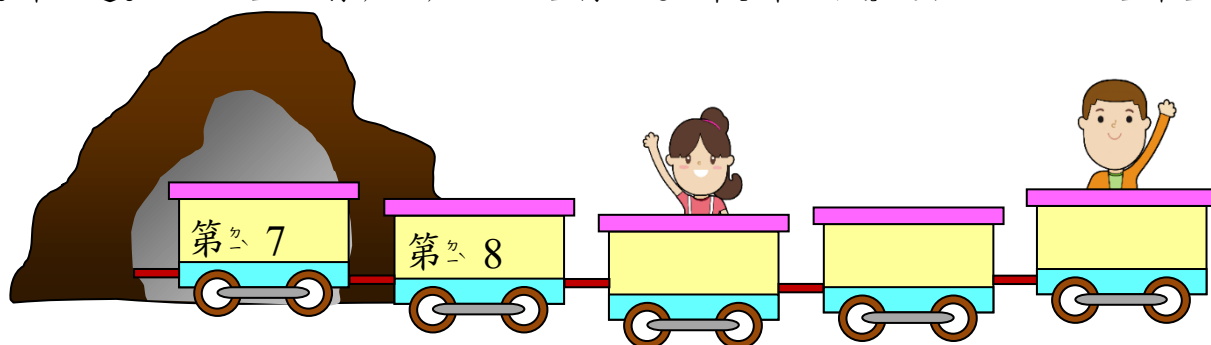
答：乳牛是第 12 個。

最後 1 個是第 12 個，也就全部有 12 隻動物在排隊上公車。





火車過山洞，前面已經有 6 節車廂進入山洞中。



(1) 女孩在第幾車？



第 8 的後面是第 9，女孩在第 9 車。

(2) 男孩在最後一節車廂，是第幾車？



第 7、第 8、第 9、第 10、第 11，男孩在第 11 車。

(3) 這列火車全部有幾節車廂？



最後的車廂是第 11 車，所以這列火車全部有 11 節車廂。



小手試身手

按順序填填看：

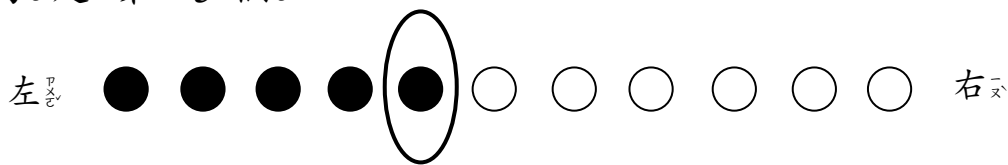
(1)

(2)

(3)



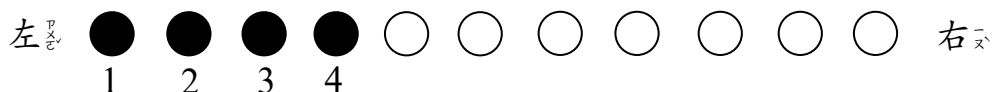
下面有 5 個圓圈是黑的，從左往右依序數，圈起來的是第 5 個。




(1) 畫畫看看，把下圖中的 4 個圓圈塗黑。




方法一：從左往右依序塗黑 4 個圓圈。




方法二：隨意塗黑 4 個圓圈。



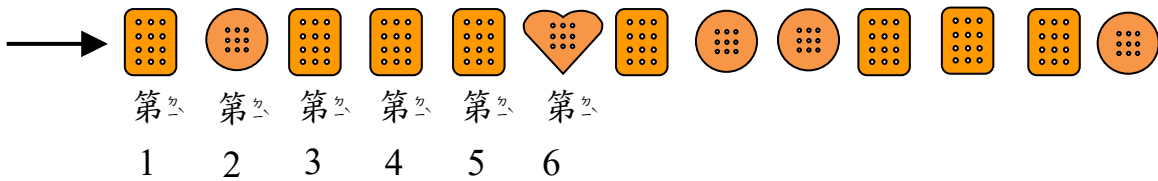
(2) 畫畫看看，由左往右數，把下圖中的第 4 個圓圈塗黑。




從這裡由左往右數。



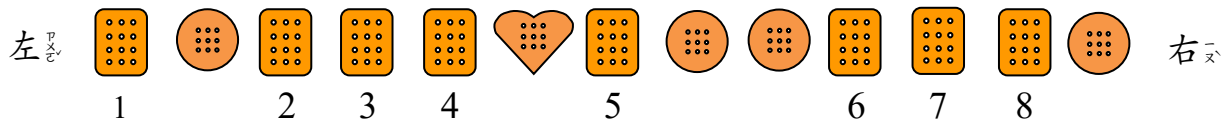
(3) 由 \rightarrow 數起， 是第幾片？



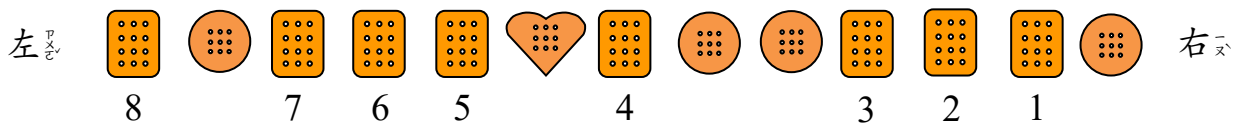
答：第 6 片

(4) 全部有 13 片餅乾， 有多少片？

方法一：從左往右數



方法二：從右往左數



答：有 8 片



小手試身手

一、畫畫看看：

(1) 塗黑 6 個圓圈。

左 ○ ○ ○ ○ ○ ○ ○ ○ ○ ○ ○ ○ 右

(2) 由左往右數，塗黑第 10 個圓圈。

左 ○ ○ ○ ○ ○ ○ ○ ○ ○ ○ ○ ○ 右

(3) 由右往左數，塗黑第 5 個圓圈。

左 ○ ○ ○ ○ ○ ○ ○ ○ ○ ○ ○ ○ 右

二、填填看看：

(1)

→ ○ ○ ○ △ ○ △ ○ ○ □ △ △ △ ○ ○

① 由 → 數起，□ 是第 () 個。

② 全部有 14 個圖形，○ 有 () 個；

△ 有 () 個。



教育部國民及學前教育署 編

國民小學

學生學習扶助教材

1 年級數學

