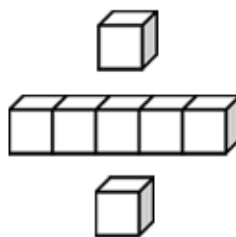


# 基本學習內容：NC-2-8-1

## 加與減兩步驟問題（不含併式）

班級：\_\_\_\_\_

姓名：\_\_\_\_\_





## ◎連加兩步驟

(1) 公車上原有 17 個女生和 8 個男生，又上來 5 個人，公車上共有多少個人？

用 2 個算式，把先算什么，再算什么的做法記下來。

① 公車上原有 17 個女生和 8 個男生，公車上共有多少個人？

用算式把做法記下來。

$$17 + 8 = 25$$

答：共有 25 個人。

② 公車上原有 25 個人，又上來 5 個人，公車上共有多少個人？

用算式把做法記下來。


$$25 + 5 = 30$$

答：共有 30 個人。

③ 公車上原有 17 個女生和 8 個男生，又上來 5 個人，公車上共有多少個人？

用 2 個算式，把先算什么，再算什么的做法記下來。

先算什么？公車上原來有多少個人，  
再加上來 5 個人。



先算： $17 + 8 = 25$

再算： $25 + 5 = 30$

答：共有 30 個人。



(2) 小雲 有 47 元，哥哥 有 24 元，妹妹 有 38 元，  
三個人共有多少元？

用 2 個算式，把先算什麼，再算什麼的做法記下來。

① 小雲 有 47 元，哥哥 有 24 元，兩人共有多少元？

用算式把做法記下來。

$$47 + 24 = 71$$

答：共有 71 元

② 小雲 和 哥哥 共有 71 元，妹妹 有 38 元，三個人共有多少元？

用算式把做法記下來。

$$71 + 38 = 109$$

答：共有 109 元

③ 小雲 有 47 元，哥哥 有 24 元，妹妹 有 38 元，三個人共有多少元？

用 2 個算式，把先算什麼，再算什麼的做法記下來。

先算小雲和哥哥共有多少元，  
再加上妹妹的錢。



先算： $47 + 24 = 71$

再算： $71 + 38 = 109$

答：共有 109 元



(3) 弟弟買一盒 43 元的餅乾、一瓶 35 元的飲料和  
一包 20 元的糖果，弟弟共要付多少元？  
用 2 個算式，把先算什麼，再算什麼的作法記下來。

先算餅乾和飲料共要付多少元，  
再加上糖果後共要付多少元。



先算： $43 + 35 = 78$

再算： $78 + 20 = 98$

答：共要付 98 元

(4) 投籃比賽，表哥第一次得 48 分，第二次得 43  
分，第三次得 25 分，表哥共得多少分？  
用 2 個算式，把先算什麼，再算什麼的作法記下來。

先算第一次和第二次共得多少分，  
再算加上第三次的得分。



先算： $48 + 43 = 91$

再算： $91 + 25 = 116$

答：共得 116 分



(5) 外婆前天包了 60 顆粽子，昨天包了 57 顆粽子，今天又包了 40 顆粽子，三天共包了多少顆粽子？用 2 個算式，把先算什麼，再算什麼的作法記下來。

先算前兩天共包了多少顆粽子，再算.....。



先算：

再算：

答：共包（ ）顆粽子。

(6) 美美有 26 元，媽媽又給她 38 元，爸爸再給她 41 元，現在美美共有多少元？用 2 個算式，把先算什麼，再算什麼的作法記下來。

先算：

再算：

答：共有（ ）元。

## ◎連減兩步驟

(1) 奶奶有一條 98 公分的緞帶，先用掉 59 公分做胸花，再用掉 13 公分做蝴蝶結，還剩下多少公分？  
用 2 個算式，把先算什麼，再算什麼的作法記下來。

① 奶奶有一條 98 公分的緞帶，  
用掉 59 公分做胸花，剩下多少公分？  
用算式把做法記下來。  
 $98 - 59 = 39$


答：剩下 39 公分

② 奶奶的緞帶剩下 39 公分，  
再用掉 13 公分做蝴蝶結，還剩下多少公分？  
用算式把做法記下來。  
 $39 - 13 = 26$

答：剩下 26 公分

③ 奶奶有一條 98 公分的緞帶，先用掉 59 公分做胸花，再用掉 13 公分做蝴蝶結，還剩下多少公分？  
用 2 個算式，把先算什麼，再算什麼的作法記下來。

先算做胸花後剩下多少公分，  
再減去做蝴蝶結用掉的。



先算： $98 - 59 = 39$   
再算： $39 - 13 = 26$

答：剩下 26 公分



(2)老師有 100 枝筆，發給男生 28 枝，發給女生 27 枝，還剩下多少枝筆？  
用 2 個算式，把先算什麼，再算什麼的作法記下來。

先算發給男生後剩下多少枝，  
再算發給女生後剩下多少枝。



先算： $100 - 28 = 72$

再算： $72 - 27 = 45$

答：剩下 45 枝筆。

(3)小婷有 90 元，買鉛筆花掉 36 元，買果汁花掉 28 元，小婷還剩下多少元？  
用 2 個算式，把先算什麼，再算什麼的作法記下來。

先算買鉛筆後剩下多少元，  
再算買果汁後剩下多少元。



先算： $90 - 36 = 54$

再算： $54 - 28 = 26$

答：剩下 26 元。



(4)農場養了 75 隻雞，昨天賣出 26 隻，今天又賣出 27 隻，還剩下多少隻雞？  
用 2 個算式，把先算什麼，再算什麼的作法記下來。

先算：

再算：

答：剩下（ ）隻雞

(5)餅乾盒裡有 61 片餅乾，姐姐吃了 18 片，妹妹吃了 12 片，還剩下多少片餅乾？  
用 2 個算式，把先算什麼，再算什麼的作法記下來。

先算：

再算：

答：剩下（ ）片餅乾



## 小手試身手

用 2 個算式，把先算什麼，再算什麼的作法記下來：

(1) 農場原有 38 隻公雞和 24 隻母雞，今天孵出 12 隻小雞，現在農場共有多少隻雞？

先算：

再算：

答：共有（ ）隻雞。

(2) 一包吸管有 80 根，小寶拿走 26 根，家明又拿走 47 根，吸管還剩下多少根？

先算：

再算：

答：剩下（ ）根。

(3) 商店有 96 個撲滿，上午賣出 31 個，下午賣出 47 個，還剩下多少個撲滿？

先算：

再算：

答：剩下（ ）個。

(4) 花園有 18 朵紅花、37 朵黃花和 45 朵白花，花園裡共有多少朵花？

先算：

再算：

答：共有（ ）朵。



## ◎加減混合兩步驟

(1) 蘋果園採收 45 顆紅蘋果和 51 顆青蘋果，賣出 37 顆後，還剩下多少顆蘋果？  
用 2 個算式，把先算什麼，再算什麼的做方法記下來。

- ① 蘋果園裡採收 45 顆紅蘋果和 51 顆青蘋果，共有多少顆蘋果？  
用算式把做法記下來。

$$45 + 51 = 96$$

答：共有 96 顆蘋果。

- ② 蘋果園裡採收 96 顆蘋果，賣出 37 顆後，還剩下多少顆蘋果？  
用算式把做法記下來。

$$96 - 37 = 59$$

答：剩下 59 顆蘋果。

- ③ 蘋果園裡採收 45 顆紅蘋果和 51 顆青蘋果，賣出 37 顆後，還剩下多少顆蘋果？  
用 2 個算式，把先算什麼，再算什麼的做方法記下來。

先算共有多少顆蘋果，  
再減掉賣出去了的蘋果。



先算： $45 + 51 = 96$

再算： $96 - 37 = 59$

答：剩下 59 顆蘋果。



- (2) 全校的女生有 52 個人，男生比女生少 14 個人，全校共有多少人？  
用 2 個算式，把先算什麼，再算什麼的作法記下來。

先算男生的人數，  
再算全校的人數。



先算： $52 - 14 = 38$

再算： $38 + 52 = 90$

答：共有 90 人

- (3) 水族箱裡有 47 條魚，老闆撈走 12 條後，又放進 21 條，現在水族箱裡有多少人？  
用 2 個算式，把先算什麼，再算什麼的作法記下來。

先算撈走後剩下幾條魚，  
再加上去放進去的人數……。



先算：

再算：

答：有 ( ) 條魚

- (4) 火車上有 108 人，51 人下車後，又有 36 人上車，現在火車上有多少人？  
用 2 個算式，把先算什麼，再算什麼的作法記下來。

先算：

再算：

答：有 ( ) 人



小手試身手

用 2 個算式，把先算什麼，再算什麼的作法記下來：

(1) 地上有 96 顆氣球，  
小美踩破 27 顆，小玉  
踩破 23 顆，還剩下  
多少顆氣球？

先算：

再算：

答：剩下 ( ) 顆

(2) 操場上有 37 個男生和  
46 個女生，跑走了 28 個  
人，操場上還有多少  
個人？

先算：

再算：

答：還有 ( ) 個人

(3) 體育器材室有 49 顆  
棒球、42 顆排球和 21  
顆籃球，器材室裡共  
有多少顆球？

先算：

再算：

答：共有 ( ) 顆球

(4) 公車上有 35 位乘客，  
到站有 17 位乘客下車  
後，又有 13 位乘客  
上車，車上現在有多  
少位乘客？

先算：

再算：

答：有 ( ) 位乘客





教育部國民及學前教育署 編

國民小學

學生學習扶助教材 **2** 年級數學

