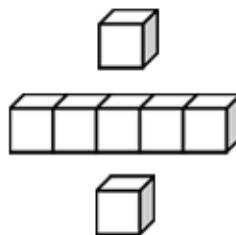


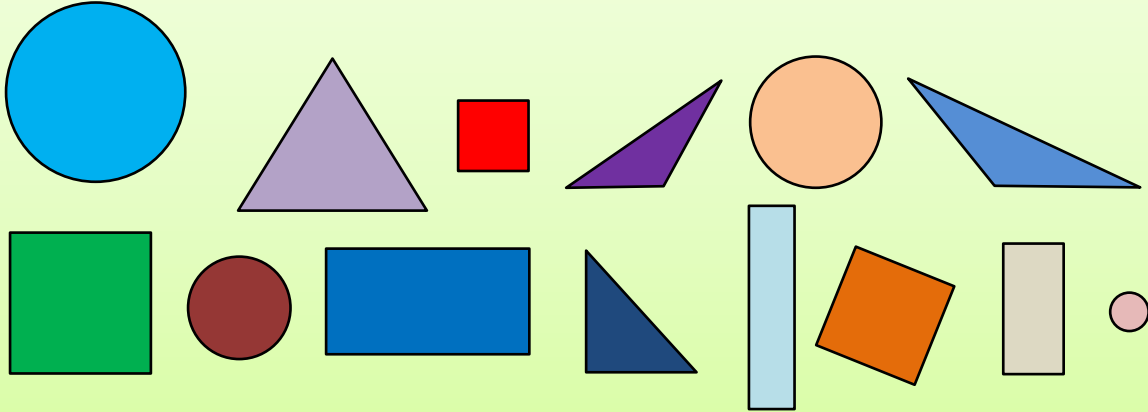
基本學習內容：SC-2-2-1

辨認、描述與分類簡單平面圖形
(圓、三角形、正方形、長方形等)


： _____
： _____



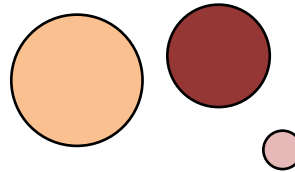
(1) 請你從下面這些圖形中，找出像老師拿的圖形。



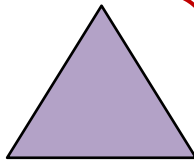
拿出像
的圖形。



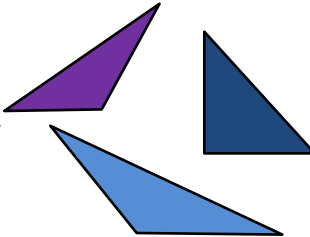
有



拿出像
的圖形。




有



拿出像
的圖形。



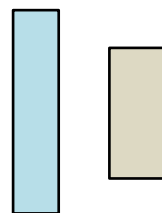
有

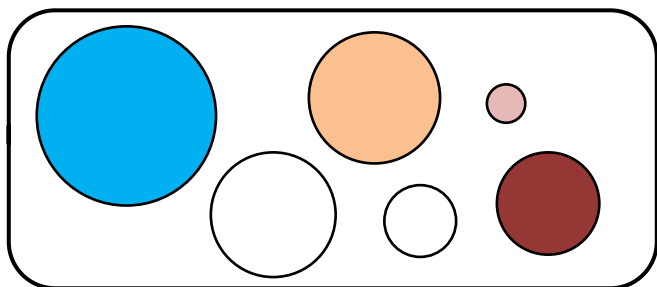


拿出像
的圖形。

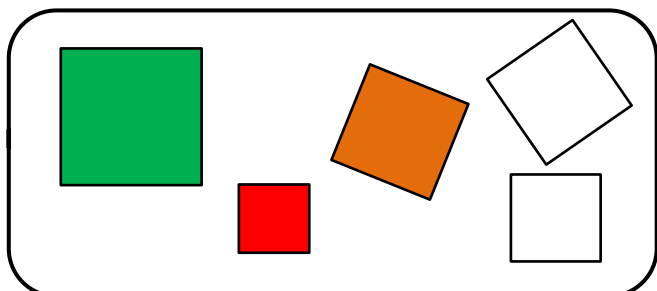


有

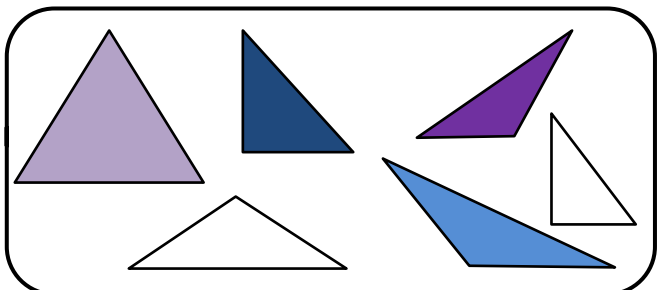




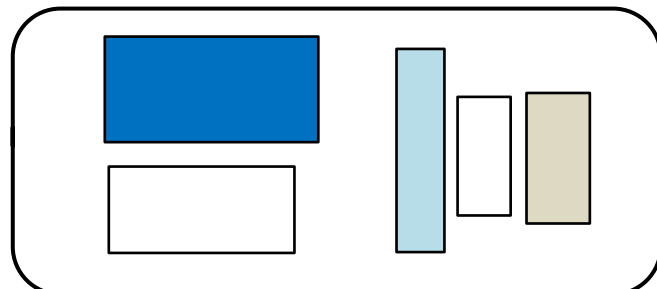
像^{ㄅㄣˊ ㄉㄜˊ ㄙㄜˊ ㄣˊ 的 ㄉㄨˊ ㄘㄩˊ ㄣˊ}
叫^{ㄇㄞˊ ㄉㄜˊ}做^{ㄉㄜˊ}圓^{ㄩㄢˊ}形^{ㄣˊ}。



像^{ㄅㄣˊ ㄉㄜˊ ㄙㄜˊ ㄣˊ 的 ㄉㄨˊ ㄘㄩˊ ㄣˊ}
叫^{ㄇㄞˊ ㄉㄜˊ}做^{ㄉㄜˊ}正^{ㄓㄥˊ}方^{ㄈㄨㄥˊ}形^{ㄣˊ}。





像^{ㄅㄣˊ ㄉㄜˊ ㄙㄜˊ ㄣˊ 的 ㄉㄨˊ ㄘㄩˊ ㄣˊ}
叫^{ㄇㄞˊ ㄉㄜˊ}做^{ㄉㄜˊ}三^{ㄙㄨㄢˊ}角^{ㄐㄩㄥˊ}形^{ㄣˊ}。



像^{ㄅㄣˊ ㄉㄜˊ ㄙㄜˊ ㄣˊ 的 ㄉㄨˊ ㄘㄩˊ ㄣˊ}
叫^{ㄇㄞˊ ㄉㄜˊ}做^{ㄉㄜˊ}長^{ㄇㄞˊ}方^{ㄈㄨㄥˊ}形^{ㄣˊ}。

(2)數^{ㄉㄨˊ ㄘㄩˊ}數^{ㄉㄨˊ ㄘㄩˊ}看^{ㄎㄢˊ}， 下^{ㄉㄩㄣˊ}面^{ㄇㄣˊ}的^{ㄉㄨˊ ㄘㄩˊ ㄣˊ}圖^{ㄉㄨˊ ㄘㄩˊ ㄣˊ}形^{ㄣˊ}中^{ㄓㄨㄣˊ}有^{ㄩˊ}幾^{ㄉㄜˊ}個^{ㄉㄜˊ}三^{ㄙㄨㄢˊ}角^{ㄐㄩㄥˊ}形^{ㄣˊ}，
幾^{ㄩˊ}個^{ㄉㄜˊ}正^{ㄓㄥˊ}方^{ㄈㄨㄥˊ}形^{ㄣˊ}， 幾^{ㄩˊ}個^{ㄉㄜˊ}長^{ㄇㄞˊ}方^{ㄈㄨㄥˊ}形^{ㄣˊ}和^ㄝ幾^{ㄩˊ}個^{ㄉㄜˊ}圓^{ㄩㄢˊ}形^{ㄣˊ}？






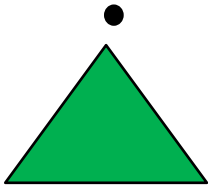
答^{ㄉㄚˊ}： 10 個^{ㄉㄜˊ}三^{ㄙㄨㄢˊ}角^{ㄐㄩㄥˊ}形^{ㄣˊ}， 2 個^{ㄉㄜˊ}正^{ㄓㄥˊ}方^{ㄈㄨㄥˊ}形^{ㄣˊ}， 2 個^{ㄉㄜˊ}長^{ㄇㄞˊ}方^{ㄈㄨㄥˊ}形^{ㄣˊ}
和^ㄝ 1 個^{ㄉㄜˊ}圓^{ㄩㄢˊ}形^{ㄣˊ}



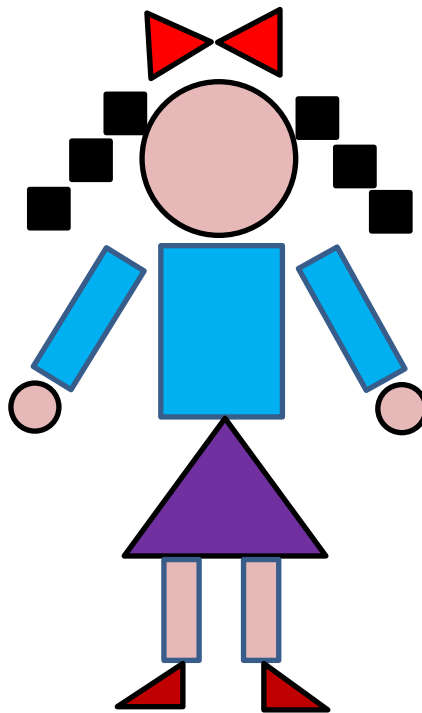
小手試身手

(1) 連連看：

長方形	正方形	三角形	圓形
●	●	●	●



(2) 數一數，正方形、長方形、圓形和三角形各有幾個？




有()個三角形，()個正方形，
()個長方形和()個圓形。




(3) 看圖圈圖看：


① 哪一個圖形是三角形？




② 哪一個圖形是正方形？



③ 哪一個圖形是長方形？



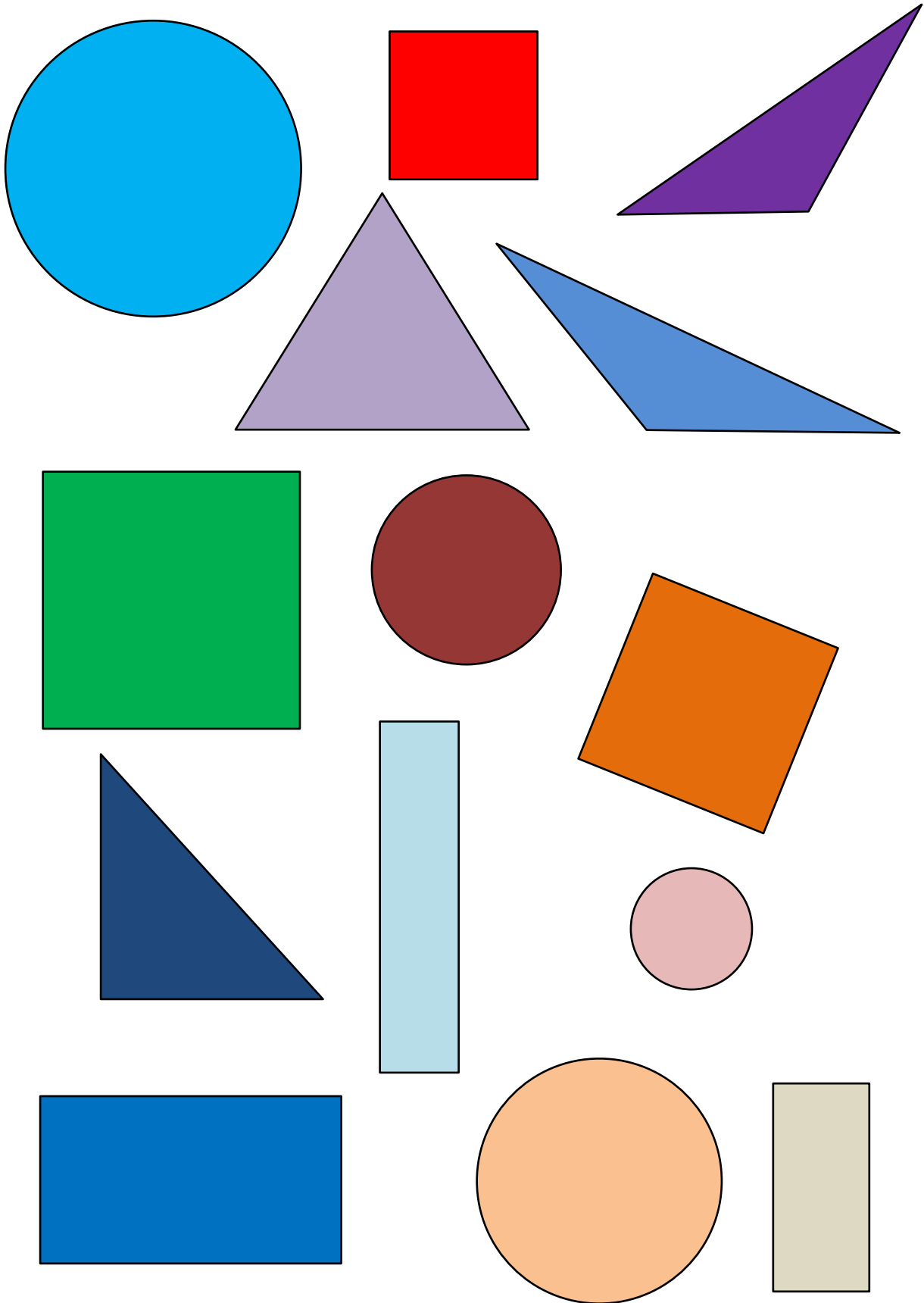
④ 哪一個圖形是圓形？





基本學習內容:SC-2-2-1

附件：





教育部國民及學前教育署 編

國民小學

學生學習扶助教材

2 年級數學

