

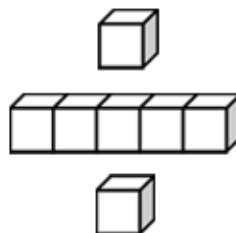


基本學習內容：DC-2-1-2

將分類的結果以圖表呈現並說明

班_ワ 級_リ： _____

姓_シ 名_ナ： _____





基本學習內容:DC-2-1-2

◎將分類的结果以圖表呈現，並說明圖表記錄了什麼

(1) 丞恩班上票選最喜歡的動物，全班票選結果如下，看表回答問題。

二隻腳		四隻腳	
雞	小鳥	兔子	天竺鼠
3 票	8 票	7 票	10 票

- ① 班上最多的人喜歡的是()，這種動物有()隻腳。
- ② 喜歡二隻腳動物的有()票，喜歡四隻腳動物的有()票。
- ③ 喜歡二隻腳動物的學生比喜歡四隻腳動物的學生少()票。

- ① 班上最多的人喜歡的是天竺鼠，天竺鼠有四隻腳。
- ② 喜歡雞的有 3 票，喜歡小鳥的有 8 票， $3+8=11$ ，喜歡二隻腳動物的有 11 票，喜歡兔子的有 7 票，喜歡天竺鼠有 10 票， $7+10=17$ ，喜歡四隻腳動物的有 17 票。
- ③ $17-11=6$ ，喜歡二隻腳動物的學生比喜歡四隻腳動物的學生少 6 票。



(2) 琳琳班上票選最喜歡的水果，全班票選結果如下，看表回答問題。

青色		紅色	
棗子	芭樂	草莓	番茄
8 票	4 票	12 票	6 票

- ① 班上最少人喜歡的水果是()，
這種水果是()色。
- ② 班上最多人喜歡的水果是()，
這種水果是()色。
- ③ 喜歡青色水果的有()票；
喜歡紅色水果的有()票。
- ④ 琳琳班上共有()個學生投票。

- ① 班上最少人喜歡的水果是芭樂，芭樂是青色。
- ② 班上最多人喜歡的水果是草莓，草莓是紅色。
- ③ 喜歡棗子的有 8 票，喜歡芭樂的有 4 票，
 $8 + 4 = 12$ ，喜歡青色水果的有 12 票；
 喜歡草莓的有 12 票，喜歡番茄的有 6 票，
 $12 + 6 = 18$ ，喜歡紅色水果的有 18 票。
- ④ 喜歡青色水果的有 12 票，喜歡紅色水果的有 18 票。
 $12 + 18 = 30$ ，琳琳班上共有 30 個學生投票。



(3)服飾店的架子上有長袖和短袖的衣服，如下圖，看圖回答問題。




























6				○		
5		○		○		
4		○	○	○		
3	○	○	○	○	○	
2	○	○	○	○	○	○
1	○	○	○	○	○	○
數量 (件)	白色	藍色	黑色	白色	藍色	黑色
	長袖			短袖		

- ① 長袖的衣服最多的是()色，有()件；
短袖的衣服最少的是()色，有()件。
- ② 白色衣服共有()件，藍色衣服共有()件，
黑色衣服共有()件。
- ③ 長袖衣服和短袖衣服相差()件。

- ① 長袖衣服最多的是藍色，有 5 件；
短袖衣服最少的是黑色，有 2 件。
- ② $3+6=9$ ，白色衣服共有 9 件，
 $5+3=8$ ，藍色衣服共有 8 件，
 $4+2=6$ ，黑色衣服共有 6 件。
- ③ $3+5+4=12$ ，長袖衣服有 12 件，
 $6+3+2=11$ ，短袖衣服有 11 件。
 $12-11=1$ 長袖衣服和短袖衣服相差 1 件。



(4)玩玩具箱裡有三角形、四邊形和五邊形的智慧片，如下圖，看圖回答問題。

6						
5						
4						
3						
2						
1						
數量 (個)	紅色	藍色	紅色	藍色	紅色	藍色
	三角形		四邊形		五邊形	

① 三角形的智慧片共有()個，四邊形的智慧片共有()個，五邊形的智慧片共有()個，()形的智慧片最多。

② 紅色的智慧片共有()個，藍色的智慧片共有()個，()色的智慧片比較少。

① $4+5=9$ ，三角形的智慧片共有 9 個，
 $4+6=10$ ，四邊形的智慧片共有 10 個，
 $5+3=8$ ，五邊形的智慧片共有 7 個，
 四邊形的智慧片最多。

② $4+4+5=13$ ，紅色的智慧片共有 13 個，
 $5+6+3=14$ ，藍色的智慧片共有 14 個，
 紅色的智慧片比較少。



小手試身手

一、看表回答問題。

黃色		綠色	
三角形	圓形	三角形	圓形
9 個	5 個	7 個	10 個

(1) 三角形共有()個，圓形共有()個，
()形比較少。

(2) 黃色共有()個，綠色共有()個，
()色比較多。

二、心可班上票選最喜歡的花，全班票選結果如下，看圖回答問題。

6						
5						
4						
3						
2						
1						
數量 (朵)	玫瑰	聖誕紅	雞冠花	菊花	向日葵	桂花
	紅色			黃色		

(1) 紅色的花共有()朵，黃色的花共有()朵，
()色的花比較多。

(2) 紅色的花和黃色的花相差()朵。

(3) ()和()票數相同。



教育部國民及學前教育署 編

國民小學

學生學習扶助教材

2 年級數學

